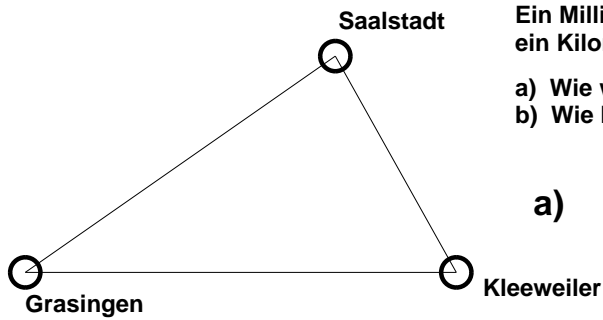


# Landkarte 1

Name

1.

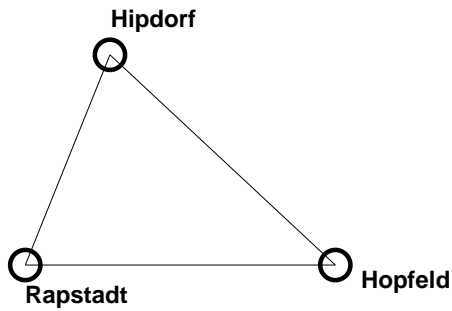


Ein Millimeter auf der Karte ist in Wirklichkeit ein Kilometer. Miss die Strecken und beantworte:

- a) Wie weit ist es von Grasingen nach Kleeweiler?
- b) Wie lang ist eine Rundreise?

a)      km                  b)      km

2.

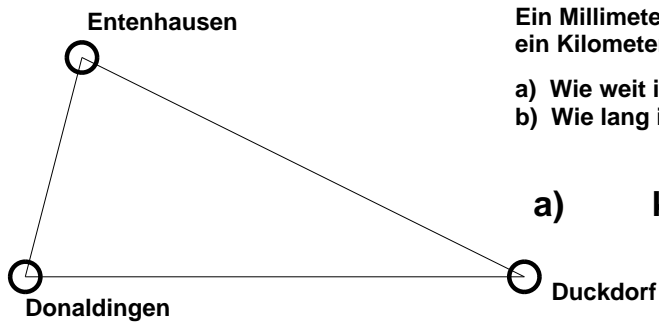


Ein Millimeter auf der Karte ist in Wirklichkeit ein Kilometer. Miss die Strecken und beantworte:

- a) Wie weit ist es von Rapstadt nach Hopfeld?
- b) Wie lang ist eine Rundreise?

a)      km                  b)      km

3.

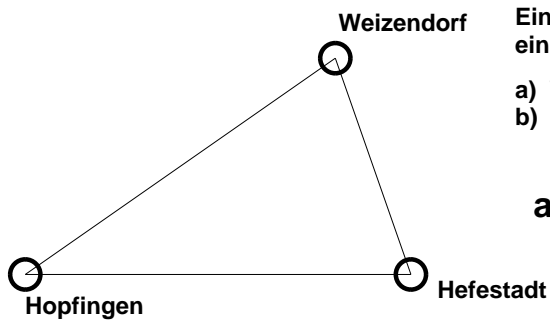


Ein Millimeter auf der Karte ist in Wirklichkeit ein Kilometer. Miss die Strecken und beantworte:

- a) Wie weit ist es von Donaldingen nach Duckdorf?
- b) Wie lang ist eine Rundreise?

a)      km                  b)      km

4.



Ein Millimeter auf der Karte ist in Wirklichkeit ein Kilometer. Miss die Strecken und beantworte:

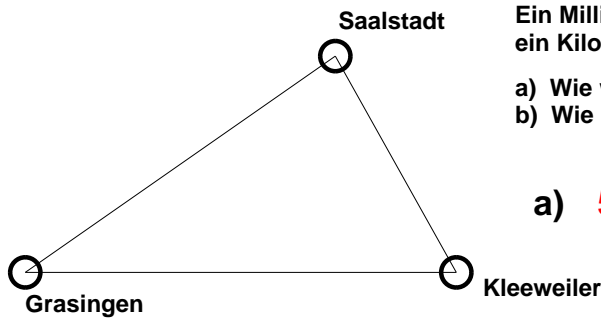
- a) Wie weit ist es von Hopfingen nach Hefestadt?
- b) Wie lang ist eine Rundreise?

a)      km                  b)      km

# Landkarte 1

Name

1.

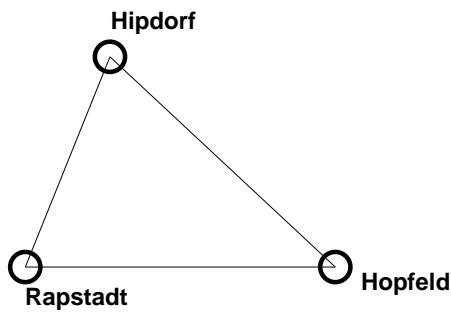


Ein Millimeter auf der Karte ist in Wirklichkeit ein Kilometer. Miss die Strecken und beantworte:

- a) Wie weit ist es von Grasingen nach Kleeweiler?
- b) Wie lang ist eine Rundreise?

a) **57 km**                      b) **142 km**

2.

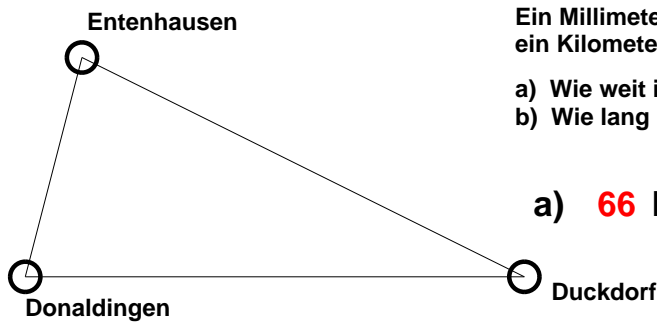


Ein Millimeter auf der Karte ist in Wirklichkeit ein Kilometer. Miss die Strecken und beantworte:

- a) Wie weit ist es von Rapstadt nach Hopfeld?
- b) Wie lang ist eine Rundreise?

a) **41 km**                      b) **120 km**

3.

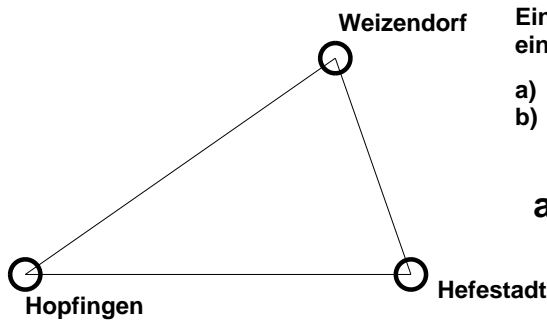


Ein Millimeter auf der Karte ist in Wirklichkeit ein Kilometer. Miss die Strecken und beantworte:

- a) Wie weit ist es von Donaldingen nach Duckdorf?
- b) Wie lang ist eine Rundreise?

a) **66 km**                      b) **161 km**

4.



Ein Millimeter auf der Karte ist in Wirklichkeit ein Kilometer. Miss die Strecken und beantworte:

- a) Wie weit ist es von Hopfingen nach Hefestadt?
- b) Wie lang ist eine Rundreise?

a) **51 km**                      b) **133 km**